

Materiály k samostudiu

Úterý 2.6.2020

Třída 6.F

Český jazyk

Nadpis

Fantasy literatura

- Zachycuje nereálné, přesto fascinující světy
- Založeno jen na použití fantazie
- Inspirace dávnými mýty, náboženstvím, pohádkami, magií, budoucností
- Nezachycuje tolik techniku, ale spíše magii a nadpřirozenost
- Hlavní postavy – draci, duchové, skřítki, létající zvířata

Představitelé:

John Ronald Reuel Tolkien

- Pán prstenů
- **Hobit aneb Cesta tam a zase zpátky**

Christopher Paolini

- Eragon
- Poutník, čarodějnice a červ

Clive Staples Lewis

- Letopisy Narnie
- Princ Kaspian

Matematika




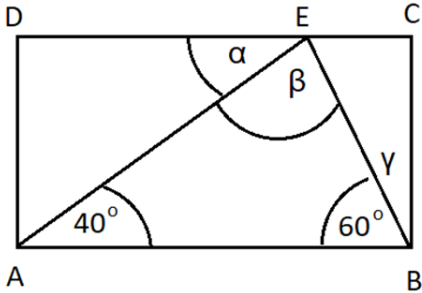
Opakování (dělitelnost, objem, úhly)

Ve dnech 2. až 8. června budeš počítat příklady. Tvou úlohou je vypočítat každý příklad a zjistit, jaké písmeno je přiřazené k tvému výsledku. Dané písmeno si napiš do tabulky.

Upozornění!

Nelekni se, písmena v tabulce nedávají smysl. **8. června se dozvíš**, co s písmeny máš udělat.

písmena z úterý 2. 6.			písmena ze středy 3. 6.			písmena z čtvrtka 4. 6.			písmena z pondělí 8. 6.		
1.	2.	3.	4.	5.	6.	7.	8.	9.	10.	11.	☺ + tvořivý úkol


1. 	Urči počet všech dělitelů čísla 60. (Ber v úvahu pouze dělitelnost přirozeným číslem!)	T – 15 A – 12 P – 10 Í – 8 R – 6	
2. 	Vypočítej objem kvádru, jehož hrany jsou: a = 0,4 m b = 20 cm c = 500 mm Výsledek vyjádři v dm³.	K – 40 O – 48 B – 76 R – 22 A – 120	
3. 		Obdélník ABCD má bod E na straně CD. Urči, jaký je součet úhlů $\alpha + \beta + \gamma$.	M – 120° Ý – 110° V – 100° A – 180° L – 150°

Přírodopis


1. Opakujeme jehličnany z minulé hodiny: už víme, podle čeho dostala tato skupina název, podle čeho poznám stáří stromu, že tis je jedovatý, že smrkové šišky rostou směrem dolů, že jedlové směrem nahoru a rozpadají se, že modřín je opadavý

2. Další úkol k odeslání.

K písmenům doplň rodový název jehličnanů



Zjistí název těchto dalších jehličnanů



Odpověz na otázky: učebnice str. 100 otázky č. 2., 5., 8.

3. Prohlédneme si obrázky na str. 100 - 101 a odpovídáme ústně na zelené části označené jako úkol!

4. Do sešitu si nakreslíme: str.93 obr. 49, str.95 obr. 54, a zapíšeme kolika let se dožívají sekvojovce rostoucí v národním parku v USA.

Zeměpis

Jak se žije v Africe

Milé děti, včera jste měly svátek.

Dodatečně vše nejlepší!

Podívejte video– Jak se žije v Africe

<https://www.youtube.com/watch?v=iFzTyGacjuY>

Do školního sešitu napiš v několika bodech náplň každodenního života dítěte (co během dne dělá).