

Materiály k samostudiu





Pátek 12.6. 2020

5.F

MATEMATIKA

Vyznač dané zlomky barevnými pastelkami:

2 Vyznač:

$\frac{49}{100}$		$\frac{78}{100}$	
$\frac{8}{10}$		$\frac{230}{1000}$	

Podívej se na toto video a zkus si panem učitelem vypočítat aritmetický průměr zadaných čísel.

https://www.youtube.com/watch?v=IH7IXwj_bs0

Do sešitu napiš nadpis: **Aritmetický průměr**

Teď si výpočet aritmetického průměru zkus v tomto cvičení:

Učebnice strana 90, cvičení 1.

Učebnice strana 106, cvičení 7 – vyřeš zadané úkoly.

Vše piš do sešitu nebo na volný list papíru.

ČESKÝ JAZYK

Učebnice strana 191, cv. 5 – úkol napiš do sešitu nebo na list papíru.

Vzor: Například věta - Otec vyjel na náročnou služební cestu.

Napíšeš základní skladební dvojici a v závorce za ní určíš druh přísudku: **otec vyjel (přísudek slovesný)**

PŘÍRODOVĚDA

Učebnice strana 67, přepiš do sešitu modrý rámeček dole na stránce.

Učebnice strana 68 – Přečíst celou stránku a splnit úkol z růžového rámečku – vyber si člena rodiny (bratra, sestru, babičku, dědečka apod.) a popiš, co potřebuje ke spokojenému životu, jak žije, jak ho vidí okolí a pak nech hádat spolužáka, kamaráda, rodiče, kdo z vaší rodiny byl popisován. Porovnej pak rozdíly mezi svými a jeho(jejími) potřebami.

Pak splň další úkol z růžového rámečku.

ČESKÝ JAZYK

Domácí četba